	GIMNASIO SABIO CALDAS (IED) Nuestra escuela: una opción para la vida PLAN ESCOLAR NO PRESENCIAL	Código	PENP - 01
		Versión	001
		Fecha	18/03/2020
		Proceso	Gestión Académica

DOCENTE	YONATHAN PRADA GÓMEZ	GRADO	CUARTO A Y B
ASIGNATURA	MATEMÁTICAS Y GEOMETRÍA		
Correo electrónico de contacto	yonathan.prada@sabiocaldas.edu.co		
Fecha de envío	10 mayo 2021	Fecha de entrega	14 mayo 2021
Tiempo de ejecución de la actividad	3 horas		
TEMA	MULTIPLICACIÓN Y DIVISIÓN PERÍMETRO Y ÁREA DE CUADRILÁTEROS		

Contextualización

MATEMÁTICAS

Multiplicar dos números naturales consiste en sumar uno de los factores consigo mismo tantas veces como indica el otro factor.

Por ejemplo, la multiplicación $2 \cdot 5$ consiste en sumar el número 2 cinco veces:

$$2 \cdot 5 = 2 + 2 + 2 + 2 + 2 = 10$$

Términos que intervienen en una multiplicación:

$$a \cdot b = c$$

a y b se denominan factores

a se denomina multiplicando, es el factor que debe sumarse tantas veces como indique b

b se denomina multiplicador, es el factor que indica las veces que el que se ha de sumar el multiplicando a

El resultado c se denomina **producto**

$$\begin{array}{r}
 \times 7 \\
 \underline{3} \\
 21
 \end{array}
 \left. \begin{array}{l}
 \text{Multiplicando} \\
 \text{Multiplicador}
 \end{array} \right\} \text{ Factores}$$

Producto

<https://www.superprof.es/apuntes/escolar/matemáticas/aritmética/naturales/multiplicacion-de-numeros-naturales.html>

La división es la operación inversa a la multiplicación.

Consiste en averiguar cuántas veces el divisor está contenido en el dividendo.

$$D : d = c$$

El dividendo (D) es el número que ha de dividirse por otro.

El divisor (d) es el número entre el que ha de dividirse otro.

El cociente (c) es el resultado de la división.

Para la notación de la división se emplea entre el dividendo y el divisor los signos:

Se representa mediante los signos: dos puntos:, barra diagonal / u óbelo ÷.

$$D : d = c$$

Separadores

Relación entre los términos de una división

$$\text{Dividendo} = \text{Divisor} \cdot \text{Cociente}$$

$$12 = 4 \cdot 3$$

$$\text{Divisor} = \text{Dividendo} : \text{Cociente}$$

$$4 = 12 : 3$$

Cociente = Dividendo: Cociente

$$3 = 12 : 4$$

Resto = Dividendo – (Divisor · Cociente)

$$0 = 12 - (4 \cdot 3)$$

GEOMETRIA

El **perímetro** y el **área** son dos elementos fundamentales en matemáticas. Para ayudarte a cuantificar el espacio físico y también para proveer las bases de matemáticas más avanzadas como en el álgebra, trigonometría, y cálculo. El perímetro es una medida de la distancia alrededor de una figura y el área nos da una idea de qué tanta superficie cubre dicha figura.

El conocimiento del área y el perímetro lo aplican muchas personas día con día, como los arquitectos, ingenieros, y diseñadores gráficos, y es muy útil también para la gente en general. Entender cuánto espacio tienes y aprender cómo conjuntar figuras te ayudará cuando pintas tu cuarto, compras una casa, remodelas la cocina, o construyes un escritorio.

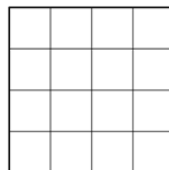
Perímetro

El perímetro de una figura de dos dimensiones es la distancia alrededor de la figura. Puedes imaginar una cuerda siguiendo los lados de la figura. La longitud de la cuerda será el perímetro. O caminar alrededor de un parque, caminas la distancia del perímetro del parque. Algunas personas encuentran útil pensar "peri-metro" donde peri es "periferia" y metro es "medida".

El área de paralelogramos

El área de una figura de dos dimensiones describe la cantidad de superficie que cubre la figura. Medimos el área en unidades cuadradas de un tamaño fijo. Ejemplos de unidades cuadradas son pulgadas cuadradas, centímetros cuadrados, o millas cuadradas. Cuando encontramos el área de un polígono, contamos cuántos cuadrados de cierto tamaño cubrirán la región dentro del polígono.

Veamos un cuadrado de 4 x 4.



Puedes contar y obtener 16 cuadrados, entonces el área es de 16 unidades cuadradas. Contar 16 cuadrados no toma mucho tiempo, pero ¿qué pasa si queremos encontrar el área es un cuadrado más grande o las unidades más pequeñas? Podría tomar mucho tiempo contar todos los cuadrados.

Afortunadamente, puedes usar la multiplicación. Como hay 4 filas de 4 cuadrados, puedes multiplicar 4 • 4 para obtener 16 cuadrados Y esto puede generalizarse a una fórmula para encontrar el área de un cuadrado de cualquier longitud, s : $\text{Área} = s \cdot s = s^2$.

https://www.montereyinstitute.org/courses/DevelopmentalMath/TEXTGROUP-1-8_RESOURCE/U07_L2_T2_text_final_es.html#:~:text=El%20per%C3%ADmetro%20es%20una%20medida,tanta%20superficie%20cubre%20dicha%20figura.

Descripción de la actividad sugerida

Para desarrollar la actividad el estudiante debe ingresar a las clases virtuales por medio del enlace enviado a través del calendario de google. Los estudiantes que no tienen la posibilidad de ingresar a las clases, deben resolver las actividades propuestas y enviar evidencia al profesor correspondiente.

Resolver las siguientes actividades propuestas si es posible en la misma guía. Así mismo, estas actividades

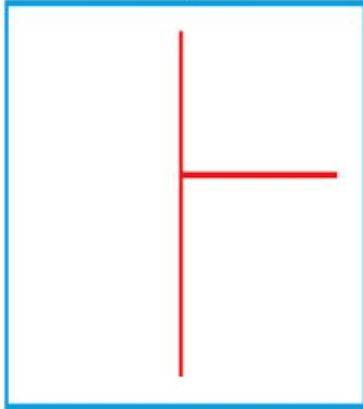
se van a subir al Classroom y se harán las respectivas retroalimentaciones durante las clases virtuales.

Webgrafía/material fotocopiado (Anexo)

MATEMÁTICAS

1 Un grupo de personas correrá 300 km en 15 etapas iguales. ¿Cuántos kilómetros recorrerá en cada etapa?

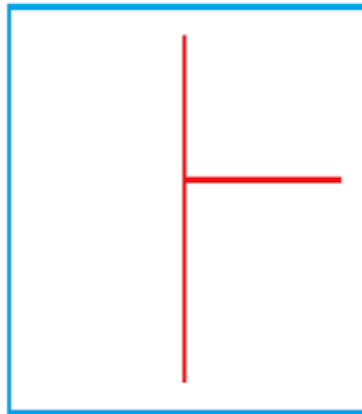
Resuelve el problema



2 Un camión transporta 4.860 refrescos en cajas de 12 refrescos cada una. ¿Cuántas cajas lleva el camión?

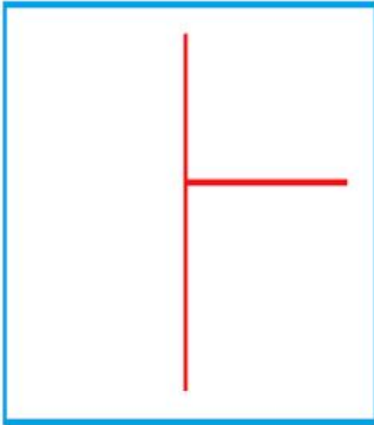


Resuelve el problema



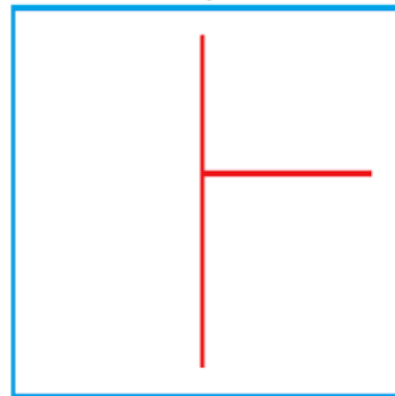
3. En un videojuego, Marta ha conseguido 36.450 puntos capturando 11 monedas de oro. ¿Cuántos puntos vale cada moneda de oro?

Resuelve el problema




4. En la estantería del salón de mi casa hay 1280 libros en total colocados en 10 estantes. Sabiendo que cada estantería tiene el mismo número de libros, calcula ¿cuántos libros hay en cada estantería?

Resuelve el problema



5. Las gallinas de una granja pusieron 3.675 huevos en una semana. Si cada gallina puso 13 huevos, ¿cuántas gallinas hay en la granja?

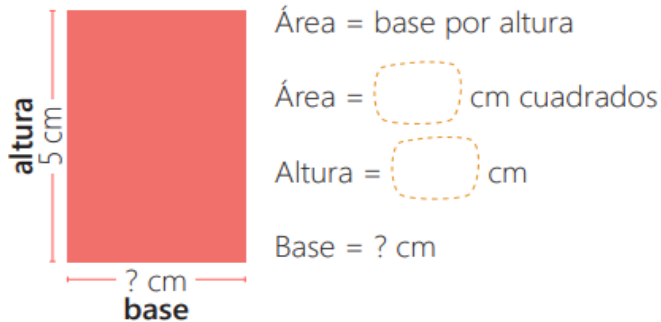
Resuelve el problema



6. En cada uno de los problemas anteriores identificar las partes de la división.
7. Proponer y resolver un problema de tu vida que involucre la división.

GEOMETRÍA

RESPONDA LAS PREGUNTAS 5 Y 6 DE ACUERDO CON LA SIGUIENTE INFORMACIÓN



1. Si el área de una hoja de pape rectangular es de 20 cm cuadrados y la altura mide 5 cm. ¿Cuál es la medida de la base?
 - A. 1 cm.
 - B. 2 cm.
 - C. 3 cm.
 - D. 4 cm.
2. Respecto al perímetro de la hoja de papel podemos afirmar que es:
 - A. Es un multiplo de 2 y 9.
 - B. Es un multiplo 4 y 5.
 - C. Es un multiplo de 5 y 20.
 - D. Es un multiplo de 4 y 20.

Criterios de Evaluación

- Utiliza los números naturales para modelar y solucionar situaciones del contexto.
- Reconoce las nociones perímetro y área.
- Entrega las evidencias de su trabajo y con buena presentación las actividades planteadas.
- Demuestra disposición y buena actitud en las clases virtuales, participando y generando un ambiente propicio para su aprendizaje.